



evropský
sociální
fond v ČR



EVROPSKÁ UNIE



MINISTERSTVO ŠKOLSTVÍ,
MLÁDEŽE A TĚLOVÝCHOVY



OP Vzdělávání
pro konkurenceschopnost

INVESTICE DO ROZVOJE VZDĚLÁVÁNÍ

Složka sady	VY_12_INOVACE_D.6.20
Autor	Mgr. Radka Florianová
Vzdělávací oblast	Člověk a společnost
Vzdělávací obor	Dějepis
Předmět	Dějepis
Tematický okruh	Starověk
Téma	Starověký Egypt
Ročník	6.
Rozsah vyučovací jednotky	1 vyučovací hodina
Očekávaný výstup	Žák: - uvede příklady památek nebo objevů a základů věd pocházejících z Egypta
Metodický postup	1. Žák si přečte text, doplní obyčejnou tužkou do textu chybějící slova a zakreslí místa do mapy 2. Doplní za pomoci obrázků k definicím pojmy 3. Společná kontrola
Druh učebního materiálu	Pracovní list STAROVĚKÝ EGYPT (3. část)
Materiál ověřen při výuce	Datum: 16. 1. 2012 Třída: 6.A
Zdroj	http://upload.wikimedia.org/wikipedia/commons/a/a7/Sarcophage-myk%C3%A9rinos.jpg http://upload.wikimedia.org/wikipedia/commons/a/ac/Rammumy.jpg http://commons.wikimedia.org/wiki/File:Old_Valley_of_the_tombs_of_the_kings.png http://upload.wikimedia.org/wikipedia/commons/c/cb/Frith-Sphinx.png [cit. 2012-01-01]
Poznámka	

STAROVĚKÝ EGYPT (3. část)

1. Přečti si text, doplň obyčejnou tužkou do textu chybějící slova (můžeš použít učebnici) a místa zakresli do mapy (použij mapu v pracovním listu Starověký Egypt - 1. část):

Nejznámější egyptskou památkou, která se dochovala, jsou _____. Byly postaveny v období _____ říše (asi 2700 - 2200 před naším letopočtem). Pyramidy mají tvar _____ a jsou to _____ faraonů. Uvnitř se nachází splet' chodeb, které měly zmást zloděje, dále tu byla _____ komora s rakví a _____ zemřelého i s bohatou _____. První pyramidu si nechal postavit faraon _____. Na rozdíl od pozdějších pyramid byla _____. Nejznámější jsou tři pyramidy v _____, dnešním předměstí Káhiry. Největší z nich si nechal postavit panovník _____, známý pod jménem _____. Cheopsova pyramida byla původně vysoká _____ metrů. Pyramidy v Gíze jsou dokladem obrovského stavitelského umění Egyptanů - jsou postaveny z mnoha tisíc obrovských _____ kvádrů. Nedaleko Cheopsovy pyramidy stojí jako strážce pyramid Velká _____. V době stavby velkých pyramid ještě Egyptané neznali _____ a _____. Užívali jen kamenných a _____ nástrojů. _____ pyramidy v pozdější době zařadili mezi sedm _____ světa - jsou jediným z divů, který se dochoval až do současnosti.

V období _____ říše si faraoni místo pyramid nechali stavět _____ vytesané do skály. Většina hrobek je vyhloubena v _____ nedaleko _____. Královny měly vlastní pohřební údolí, které se nazývalo _____. Všechny hrobky měly schodiště a chodby vedoucí hluboko do skály - na konci se nacházela _____. Stěny a stropy pohřebních komor byly popsány _____ texty a vyzdobeny _____, zobrazujícími posmrtný život, který si Egyptané představovali jako život _____. Většina hrobek byla vyhloubena už ve _____ - obrovským

překvapením bylo v roce _____ objevení nevyhloubené hrobky panovníka _____.


2. Doplň k definicím pojmy (použij obrázky jako nápovědu):

_____ - obrovská socha ležícího lva s lidskou hlavou krále, nebo boha, střežila některé pyramidy a chrámy (obrázek _____)


_____ - mrtvé tělo člověka nebo zvířete, které bylo zachováno buď přirozeně (mrazem, vysušením apod.) nebo uměle (balzamováním) (obrázek _____)

_____ - kamenná schránka určená k uložení rakve (obrázek _____)

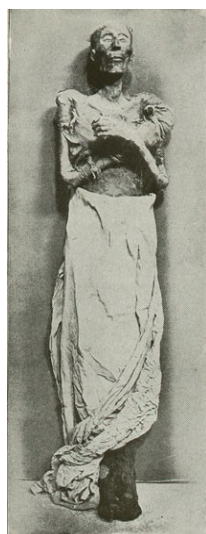
_____ - údolí v Egyptě, které sloužilo jako pohřebiště faraónů a šlechty Nové říše (obrázek _____)



A. _____



B. _____



C. _____



D. _____

ŘEŠENÍ:

STAROVĚKÝ EGYPT (3. část)

1. Přečti si text, doplň obyčejnou tužkou do textu chybějící slova (můžeš použít učebnici) a místa zakresli do mapy (použij mapu v pracovním listu Starověký Egypt - 1. část):

Nejznámější egyptskou památkou, která se dochovala, jsou **pyramidy**. Byly postaveny v období **Staré říše** (asi 2700 - 2200 před naším letopočtem). Některé pyramidy a chrámy střežily **sfingy** (obrovská socha ležícího lva s lidskou hlavou krále, nebo boha). Pyramidy mají tvar **jehlanu** a jsou to **hrobky** faraonů. Uvnitř se nachází spleť chodeb, které měly zmást zloděje, dále tu byla **pohřební** komora s rakví a **mumií** zemřelého i s bohatou **výbavou**. První pyramidu si nechal postavit faraon Džosér. Na rozdíl od pozdějších pyramid byla **stupňovitá**. Nejznámější jsou tři pyramidy v **Gíze**, dnešním předměstí Káhiry. Největší z nich si nechal postavit panovník **Chufev**, známý pod jménem **Cheops**. Cheopsova pyramida byla původně vysoká **150** metrů. Pyramidy v Gíze jsou dokladem obrovského stavitelského umění Egyptů - jsou postaveny z mnoha tisíc obrovských **kamenných** kvádrů. Nedaleko Cheopsovy pyramidy stojí jako strážce pyramid Velká **sfinga**. V době stavby velkých pyramid ještě Egyptové neznali **kolo** a **vůz**. Užívali jen kamenných a **měděných** nástrojů. **Řekové** pyramidy v pozdější době zařadili mezi sedm **divů** světa - jsou jediným z divů, který se dochoval až do současnosti.

V období **Nové říše** si faraoni místo pyramid nechali stavět **hrobky** vytesané do skály. Většina hrobek je vyhloubena v **Údolí králů** nedaleko **Luxoru**. Královny měly vlastní pohřební údolí, které se nazývalo **Údolí královen**. Všechny hrobky měly schodiště a chodby vedoucí hluboko do skály - na konci se nacházela **pohřební komora**. Stěny a stropy pohřebních komor byly popsány **náboženskými** texty a vyzdobeny **malbami**, zobrazujícími posmrtný život, který si Egyptové představovali jako život **pozemský**. Většina hrobek byla vyloupena už ve **starověku** - obrovským překvapením bylo v roce **1922** objevení nevyloupené hrobky panovníka **Tutanchamona**.


2. Dopln k definicím pojmy (použij obrázky jako nápovědu):

Sfinga - obrovská socha ležícího lva s lidskou hlavou krále, nebo boha, střežila některé pyramidy a chrámy (obrázek **D**)

Mumie - mrtvé tělo člověka nebo zvířete, které bylo zachováno buď přirozeně (mrazem, vysušením apod.) nebo uměle (balzamováním) (obrázek **C**)

Sarkofág - kamenná schránka určená k uložení rakve (obrázek **A**)


Údolí králů - údolí v Egyptě, které sloužilo jako pohřebiště faraónů a šlechty Nové říše (obrázek **B**)



A. Sarkofág



C. Mumie



B. Údolí králů



D. Sfinga